



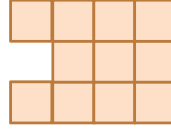
۱- با توجه به الگوی مقابل،



شکل (۱)



شکل (۲)



شکل (۳)

شکل (۵)

الف - شکل پنجم را رسم کنید.

ب رابطه ی بین تعداد مربع ها و شماره ی شکل ها را بنویسید

ج - چندمین شکل با ۲۰ مربع ساخته می شود؟

۲- چگونه می توان زوج یا فرد بودن یک عدد را مشخص کرد؟

با رسم الگویی، اعداد زوج را نشان دهید.

۳- در جای خالی کلمات مناسب بنویسید

حاصل جمع دو عدد فرد، عددی ..... است .

حاصل جمع دو عدد که یکی از آنها زوج و دیگری فرد است، ..... است .

۴- توضیح دهید که مضرب های عدد ۴ چگونه به دست می آیند؟ سپس چند مضرب آن را

بنویسید.

۵ - دور اعدادی که بر ۵ و زیر اعدادی که بر ۹ بخش پذیرند خط بکشید.

۳۶      ۶۹      ۲۲۵      ۲۰۷      ۱۹۹      ۵۰۱۱۲      ۱۰۰۰

۶- سه عدد کوچک تر از ۵۰ بنویسید که بر هیچ یک از اعداد ۲، ۳ و ۵ بخش نباشد .

نام و نام خانوادگی:

به نام خدا

تاریخ:

www.aghaahmadi.blogfa.com

۷- با کارت های



هر یک از اعداد خواسته شده را بسازید و جاهای خالی را پر کنید.

به حروف

به رقم

الف - کوچک ترین عدد ده رقمی

ب - کوچک ترین عدد ۶ رقمی زوج

۸ کوچک ترین عدد سه رقمی را که بر ۲ و ۵ بخش پذیر است با رقم های غیر تکراری بنویسید

۹ دور عددهایی که بر ۳ بخش پذیر هستند خط بکشید

۵۳ - ۲۷۰ - ۷۴۰ - ۳۳۳ - ۱۰۵

۱۰ الف ( مضرب های عدد ۴ را بنویسید .

ب ( ۲۰ مضرب چه عددهای می تواند باشد

۱۱ - عدد چهل و نه میلیون و هشتصد و هفت را به رقم بنویسید.

به صورت گسترده بنویسید.

اگر آن را در ۱۰۰ ضرب کنید، ارزش مکانی رقم ۸ چه تغییری می کند؟

به الگوی مقابل دقت کنید



الف ( شکل پنجم را رسم کنید